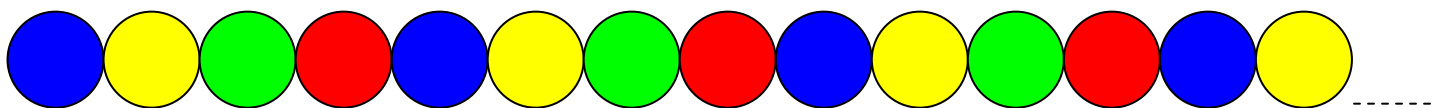



## ตัวอย่างแบบทดสอบเด็กเล็ก ตอนที่ 2

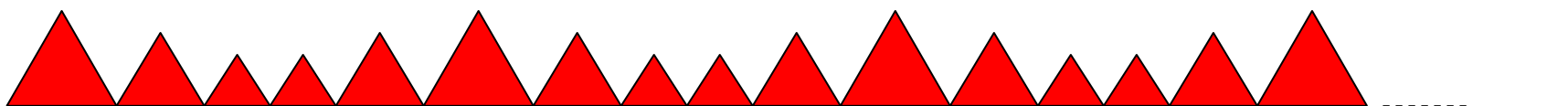
1. ให้นักเรียนดูการเรียงรูปวงกลมต่อไปนี้



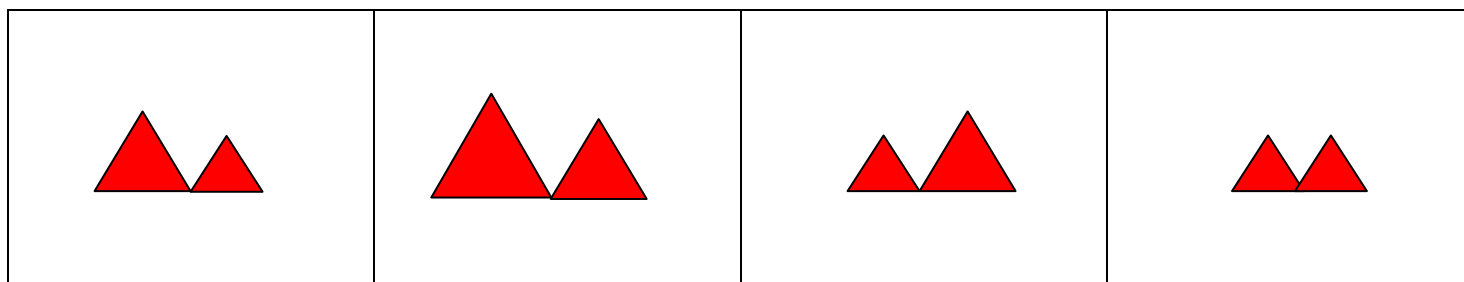
ถ้าเรียงรูปวงกลมข้างบนนี้ต่อไปอีก 1 รูป จะเป็นรูปในช่องใด ให้นักเรียนขีดเครื่องหมายกากบาทในช่องที่เป็นคำตอบ




2. ให้นักเรียนดูการเรียงรูปสามเหลี่ยมต่อไปนี้



ถ้าเรียงรูปสามเหลี่ยมข้างบนนี้ต่อไปอีก 2 รูป จะเป็นรูปในช่องใด ให้นักเรียนขีดเครื่องหมายกากบาทในช่องที่เป็นคำตอบ



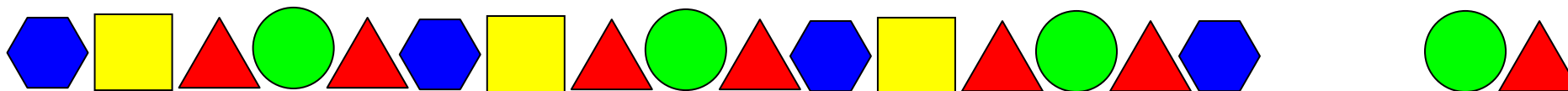
3. ให้นักเรียนดูการเรียงรูปสี่เหลี่ยมต่อไปนี้



ถ้าเรียงรูปสี่เหลี่ยมข้างบนนี้ต่อไปอีก 2 รูป จะเป็นรูปในช่องใด ให้นักเรียนขีดเครื่องหมายกากบาทในช่องที่เป็นคำตอบ

--	--	--	--

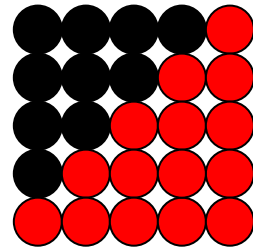
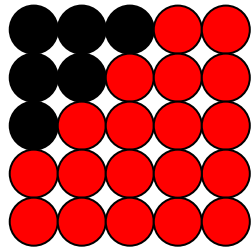
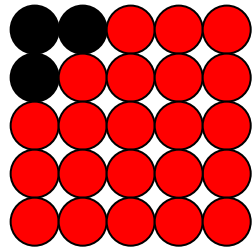
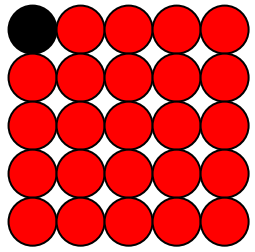
4. ให้นักเรียนดูการเรียงรูปต่อไปนี้



การเรียงรูปข้างบนนี้รูปในช่องว่างที่หายไปคือรูปในช่องใด ให้นักเรียนขีดเครื่องหมายกากบาทในช่องที่เป็นคำตอบ

--	--	--	--

5. ให้นักเรียนดูการเรียงรูปต่อไปนี้



-----

ถ้าเรียงรูปตามแบบข้างบนนี้ รูปในช่องว่างที่หายไป จะเป็นรูปในช่องใด ให้นักเรียนขีดเครื่องหมายกากบาทในช่องที่เป็นคำตอบ

--	--	--	--