

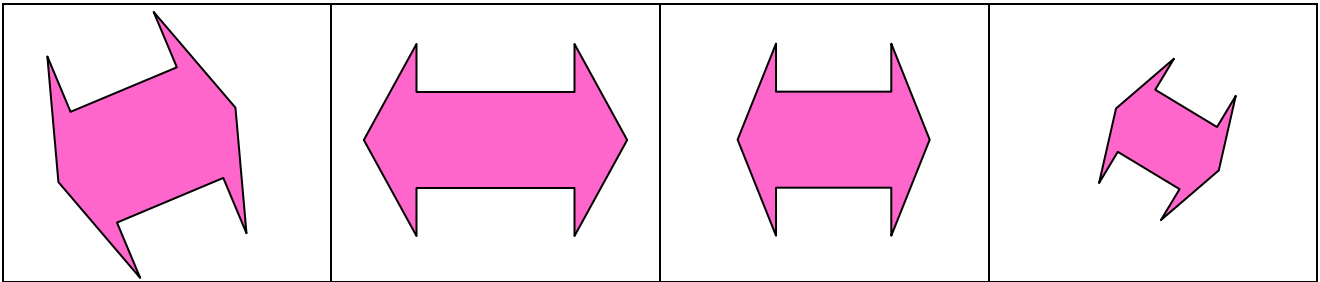


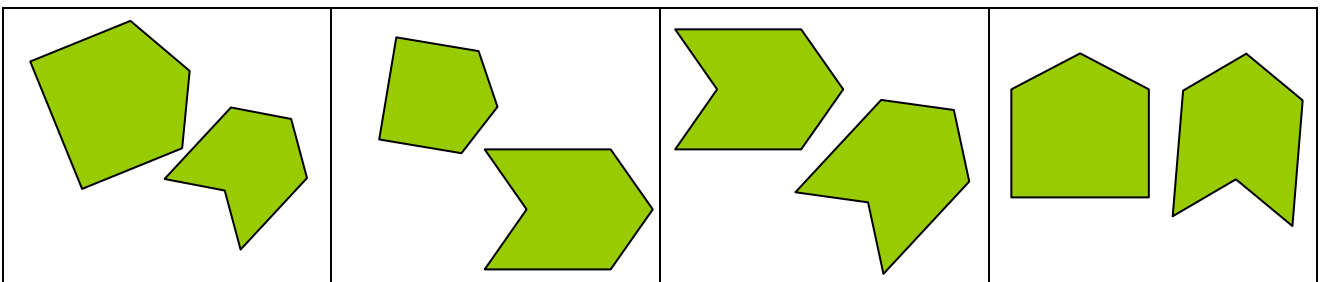
ตัวอย่างแบบทดสอบเด็กเล็ก ตอนที่ 3

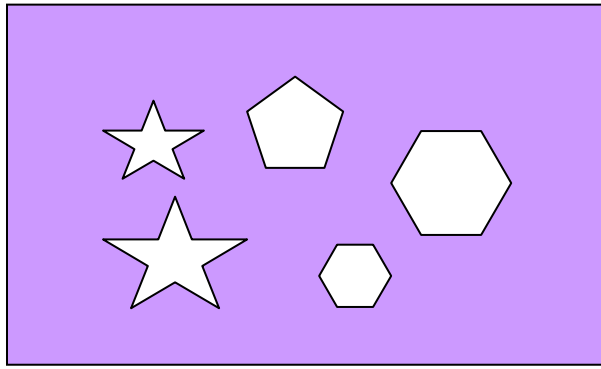


1. นักเรียนดูรูปข้างบนนี้ เป็นรูปแผ่นกระดาษที่ถูกเจาะเป็นช่องว่าง รูปที่หายไปเป็นรูปในช่องใด
ให้นักเรียนขีดเครื่องหมายกากบาทในช่องที่เป็นคำตอบ

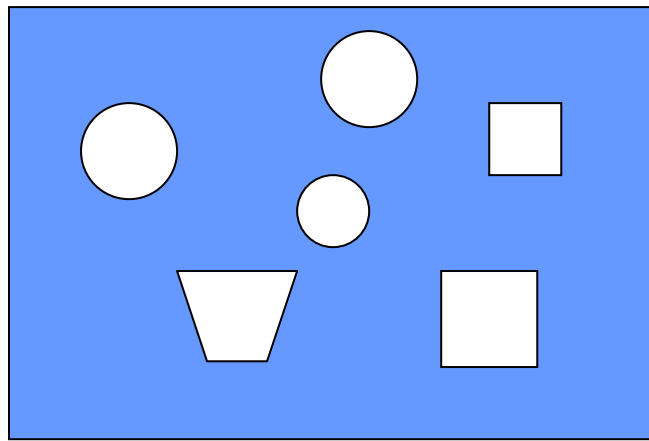
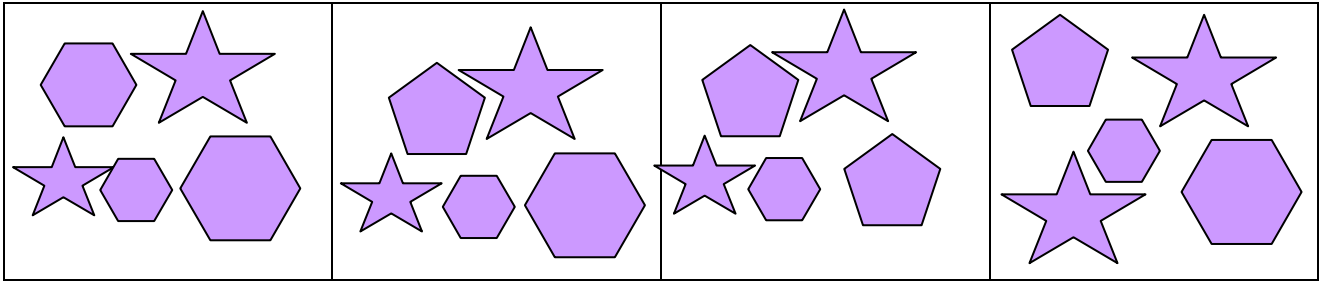


2. นักเรียนดูรูปข้างบนนี้ เป็นรูปแผ่นกระดาษที่ถูกเจาะเป็นช่องว่าง รูปที่หายไปเป็นรูปในช่องใด
ให้นักเรียนขีดเครื่องหมายกากบาทในช่องที่เป็นคำตอบ

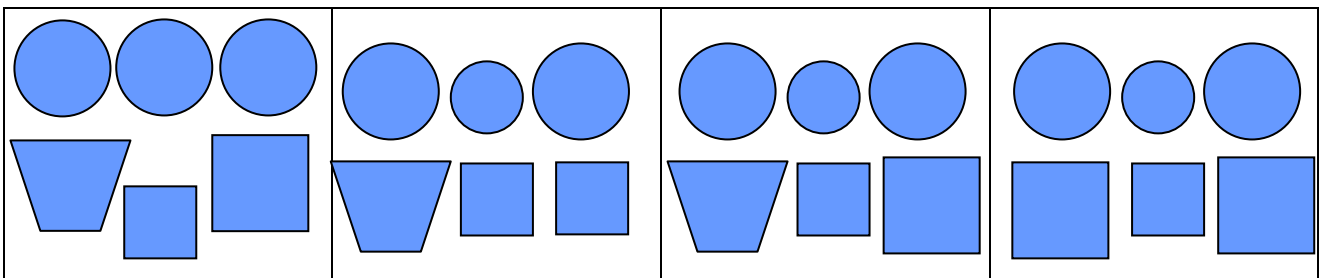


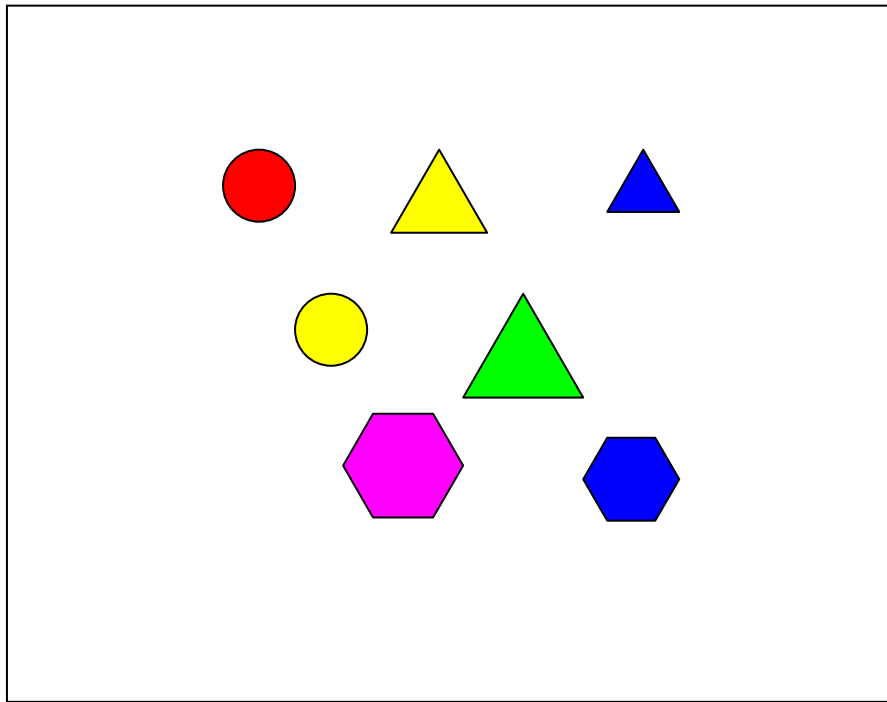


3. นักเรียนดูรูปข้างบนนี้ เป็นรูปแผ่นกระดาษที่ถูกเจาะเป็นช่องว่าง รูปที่หายไปเป็นรูปในช่องใด
ให้นักเรียนขีดเครื่องหมายกากบาทในช่องที่เป็นคำตอบ



4. นักเรียนดูรูปข้างบนนี้ เป็นรูปแผ่นกระดาษที่ถูกเจาะเป็นช่องว่าง รูปที่หายไปเป็นรูปในช่องใด
ให้นักเรียนขีดเครื่องหมายกากบาทในช่องที่เป็นคำตอบ





5. นักเรียนดูรูปข้างบนนี้ แล้วดูรูปข้างล่าง รูปข้างล่างในช่องใดเป็นรูปทั้งหมดของรูปข้างบน
ให้นักเรียนขีดเครื่องหมายกากบาทในช่องที่เป็นคำตอบ

